

Nombre: _____

Lee las oraciones y escribe que tipo es: interrogativa, imperativa, exclamativa, afirmativa o negativa.

¿En qué ciudad vives _____

Vete a hacer tu tarea _____

¡Estuvo increíble! _____

El día está nublado _____

La papelería no vende piñatas _____

Mira el dibujo. Escribe una descripción. Recuerda usar adjetivos.



Escribe un adjetivo para cada sustantivo.

La mochila _____ La niña _____
Mis juguetes _____ El dinosaurio _____
El árbol _____ El pájaro _____
El celular _____ Un oso _____
El río _____ La pesadilla _____

Encierra en un círculo usando el color amarillo las palabras que tienen diptongo y rojo las que tienen triptongo.

semiautomático	piano	Europa
huella	Uruguay	hierro
buey	miau	nadie

Subraya con azul los adjetivos posesivos y con verde los pronombres posesivos.

1. Tu cabello es muy largo.
2. Mis zapatos son nuevos y los tuyos también.
3. Su mesa es redonda. La mía es cuadrada.
4. La casa de la esquina es mía.
5. Esa es tu mamá.

Escribe tres palabras agudas, 3 graves y 3 esdrújulas.

AGUDAS	GRAVES	ESDRÚJULAS

Lee la biografía y contesta las preguntas.

Walt Disney

Walter Disney nació en Chicago, Illinois en 1901. Creció trabajando todos los días en la granja de su padre, lo que le impidió ser un alumno destacado en la escuela. A los diez años, empezó a vender sus caricaturas a amigos y se matriculó en el Instituto de Arte de Kansas City. Allí aprendió a dibujar y a perfeccionar su arte.

Después de sus estudios, Walt Disney empezó a trabajar para un periódico local pero no era feliz. Él soñaba con crear sus propias caricaturas y se mudó a Hollywood en busca de oportunidades. Mucha gente no apreció su talento, y un productor lo humilló diciéndole que “le faltaba imaginación para crear caricaturas.” Walt Disney nunca permitió que los comentarios de los demás lo molestaran, así que siguió trabajando por sus sueños. Con la ayuda de su hermano, hizo su sueño realidad y empezó los estudios Disney. En poco tiempo se convirtió en uno de los productores de película más premiados y famosos del mundo infantil. Su personaje de Mickey Mouse lo convirtió en un multimillonario, y sus películas Disney ganaron un record de veintidós premios Oscar durante su vida. Luchó por la abertura de un parque para niños llamado “Disneyland” en California y siguió produciendo películas aun más famosas.

Walt Disney murió en 1966 en California. Un año después de su muerte, su hermano lo homenajeó en Orlando con la abertura de su parque “DisneyWorld”. Hoy en día, es recordado por millones de niños alrededor del

mundo y miles de productos llevan su nombre.

1. Cual es la moraleja de la historia

2. Que crees que paso despues que el productor de cine lo humilló?

3. Porque decidio mudarse a Hollywood?

4. Usando tus propias palabras, como describirias a Walt Disney?

Anne Frank

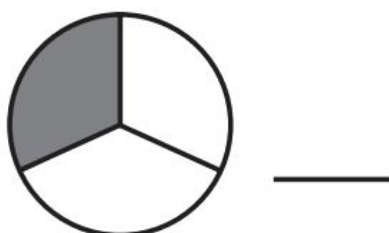
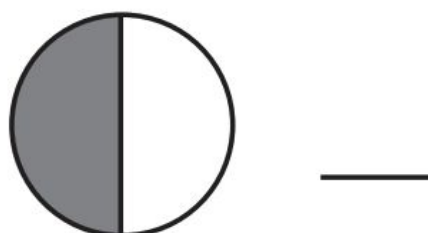
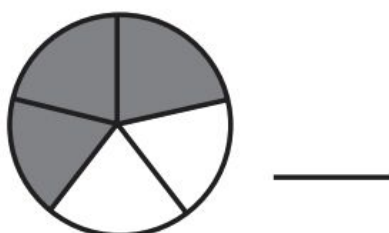
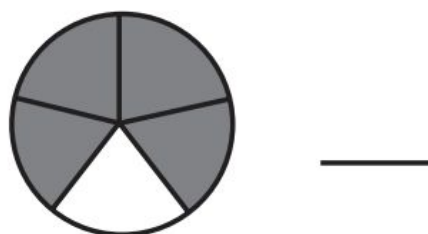
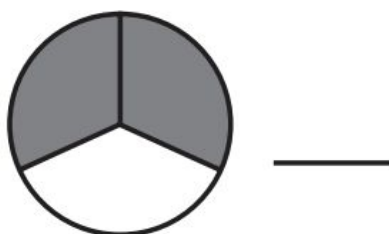
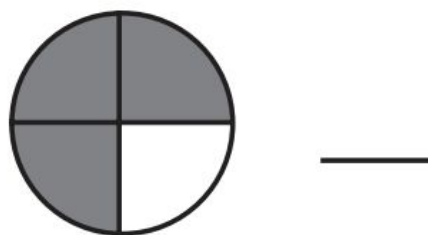
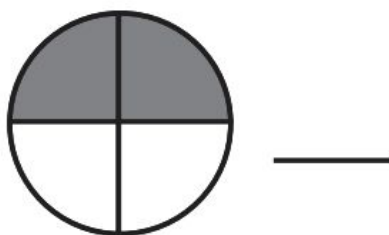
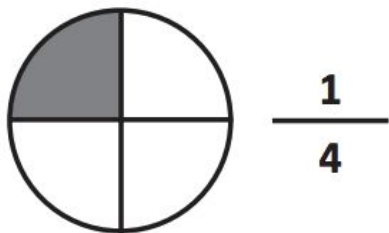
Anne Frank nació en Alemania en 1929. Su familia era judía y su religión era importante para ella. Anne era una niña muy inteligente y le gustaba leer y escribir todos los días. Su amor por la escritura era tan grande que soñaba con algún día ser una reconocida escritora.

La vida de Anne no fue fácil. Su familia se vio obligada a mudarse a Holanda donde buscaban la tranquilidad que ya no tenían en su país. Sin embargo, durante la Segunda Guerra Mundial Hitler y sus tropas invadieron Holanda y la familia de Anne se vio obligada a esconderse. Allí, Anne empezó a escribir todos los días en su diario al cual nombró "Kitty." Su diario se convirtió en su mejor amigo y allí relato su vida cotidiana. Aunque Anne era solo una adolescente, ella era consciente de los horrores de la guerra y la injusticia que vivían los judíos. Ella tenía un gran corazón y escribió en su diario "Lo que más me asombra es no haber abandonado por completo mis esperanzas...me aferro a ellas a pesar de todo y sigo creyendo en la bondad de la gente."

En 1944, la familia de Anne fue descubierta en su escondite y fueron enviados a un campo de concentración. Anne fue muy valiente y soporto por varios meses la tortura y crueldad de los Nazis, pero finalmente murió al igual que su madre y hermana. Terminando la guerra, su padre publicó los escritos de su diario y pronto se volvió famosa alrededor del mundo. Su diario se ha traducido a más de 65 idiomas y Anne es reconocida como una excelente y valiente escritora.

Piensas que Anne Frank fue valiente? Que hubieras hecho tú en su lugar?

Que parte del entero está pintada de gris? Sigue el ejemplo.



Colorea la parte que corresponde a la fracción indicada.


$\frac{1}{2}$



$\frac{5}{6}$




$\frac{2}{4}$



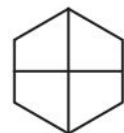
$\frac{2}{5}$



$\frac{3}{4}$



$\frac{1}{4}$



$\frac{2}{6}$



$\frac{5}{8}$




$\frac{1}{2}$



$\frac{1}{4}$



$\frac{1}{3}$



$\frac{1}{5}$



$\frac{3}{5}$



$\frac{2}{3}$



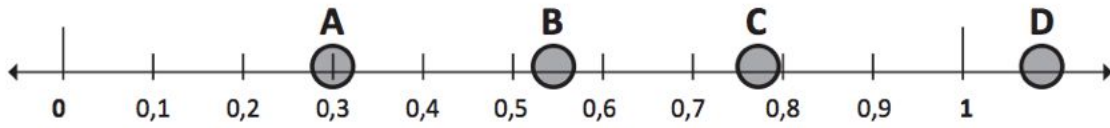
$\frac{5}{5}$



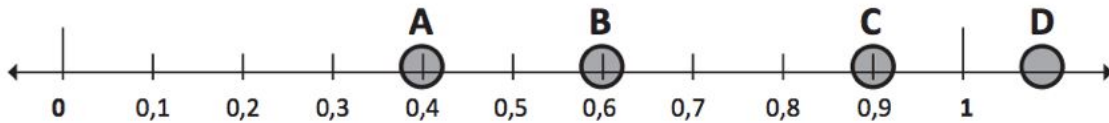
$\frac{3}{4}$



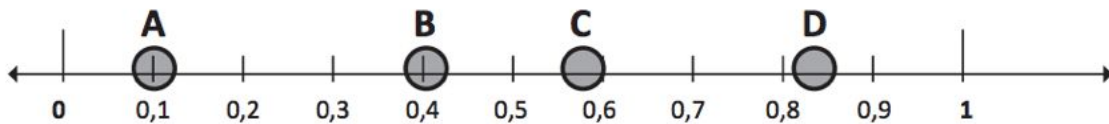
Lee y observa.



1. Que letra representa mejor la ubicación de 0,3 en la recta numérica? ___
2. Que letra representa mejor la ubicación de 0,55 en la recta numérica? ___

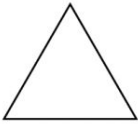


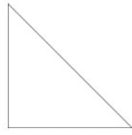
1. Que letra representa mejor la ubicación de 0,9 en la recta numérica? ___
2. Que letra representa mejor la ubicación de 0,4 en la recta numérica? ___

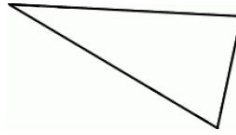


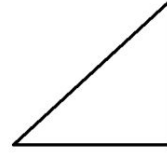
1. Que letra representa mejor la ubicación de 0,1 en la recta numérica? ___
2. Que letra representa mejor la ubicación de 0,84 en la recta numérica? ___

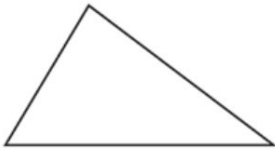
Observa las figuras y escribe que tipo de triangulo es.

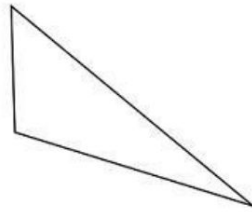


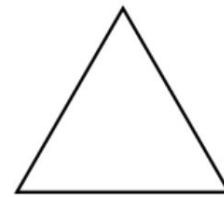




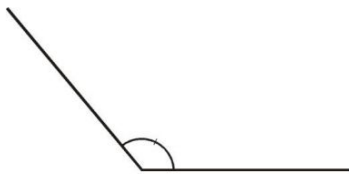


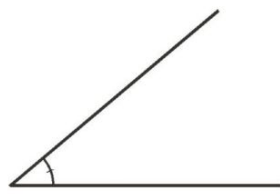






Observa las figuras y escribe que tipo de Angulo es.







Lea los problemas y escoja la respuesta correcta

Una escuela usa 698 vasos de leche al desayuno y 975 vasos de leche al almuerzo. ¿Cuántos vasos de leche usarán al final de 31 días de escuela?

- A. 1,704
- B. 21,638
- C. 30,225
- D. 51,863

Un libro de ciencias cuesta tres veces el precio de un libro de cocina. El libro de cocina cuesta \$37. ¿Cuál ecuación mostrará cuánto cuesta el libro de ciencias?

- A. $3+37=$
- B. $37 = 3 + \underline{\hspace{1cm}}$
- C. $\underline{\hspace{1cm}} = 3 \times 37$
- D. $37 = 3 \times \underline{\hspace{1cm}}$

3. El señor Osorio tiene 48 hojas de papel. Él le da dos hojas a cada estudiante. ¿Cuántos estudiantes hay?

- A. 18
- B. 24
- C. 27
- D. 96

Una maleta sobre ruedas cuesta \$36. Una maleta sin ruedas cuesta \$12. ¿Cuántas veces más cuesta la maleta en ruedas que la maleta sin ruedas?

- A. 3
- B. 6
- C. 24
- D. 48

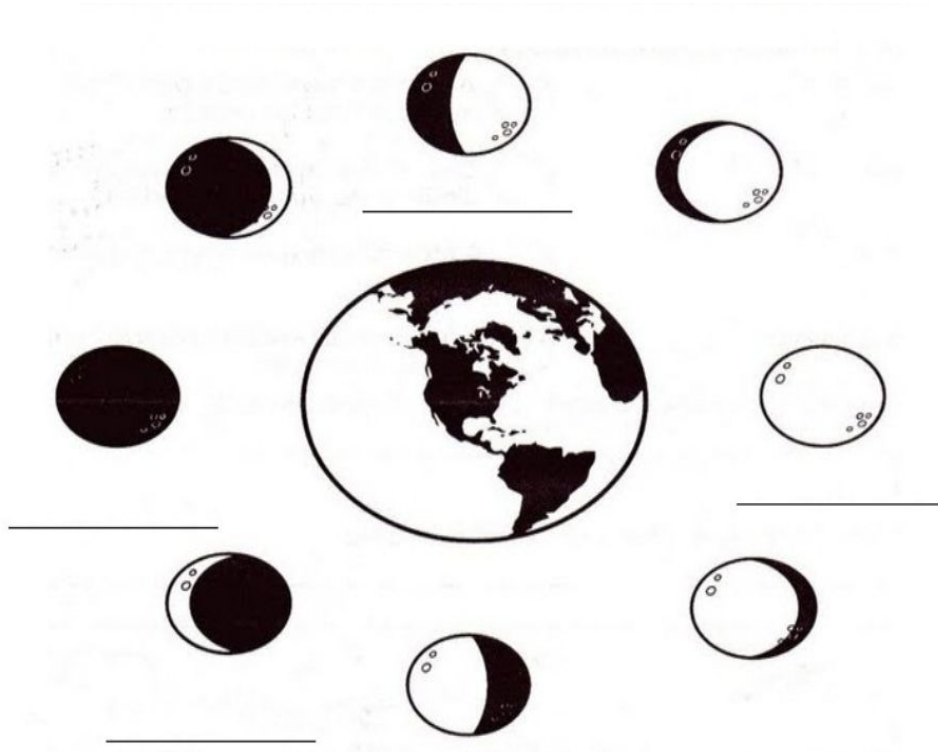
Santiago está lavando carros para ahorrar \$1,000 para un paseo. Él gana \$5 por cada carro que lava. Él ya ha lavado 60 carros. ¿Cuántos carros más tiene que lavar Santiago para llegar a ahorrar el dinero para su paseo?

- A. Debe lavar 120 carros más.
- B. Debe lavar 140 carros más.
- C. Debe lavar 700 carros más.

Sandra gasta \$16 en un tapete de bienvenida. Ellen gasta la mitad en un tapete para la cocina. ¿Cuánto gastaron las dos juntas?

- A. 8
- B. 14
- C. 24
- D. 32

Escribe el nombre de la fases de la luna de acuerdo a cada imagen.



Escoge y lee por lo menos 2 de los libros sugeridos y haz un reporte.

Escoge el tipo de reporte que mas te guste (reporte escrito, diorama, ilustración en cartulina, etc.)

Libros Sugeridos (Español)

- Un caballo llamado Libertad
- Desastre inminente
- Cleopatra
- Las aventuras de Tin Tin
- Bonicula
- Una tarde en el amazonas

Libros Sugeridos (Ingles)

- My Side of the Mountain
- The Hobbit J.R.R.
- Maniac Magee
- The Phantom Tollbooth
- Shiloh
- The Witch of Blackbird Pond
- Bridge to Terabithia

Recursos Adicionales

- Vocabulario (<http://www.digitaldialects.com/Spanish.htm>)
 - Juegos infantiles (<https://juegosinfantiles.bosquedefantasias.com/>)
 - Juegos de matemática (<https://www.mundoprimeria.com/juegos-matematicas/juegos-numeros-multiplicar-sumas-restas-primaria>)
 - Hojas de trabajo (matematica)
(<http://www.k5learning.com/free-math-worksheets>)
 - Matematica
(<http://recursosdocentes.cl/matematica-numeros-y-operaciones-1%CB%9A-y-2%CB%9A-basico/>)
 - Hojas de trabajo
 - La hora <http://www.adaptedmind.com/gradelist.php?grade=3>
(<https://www.superteacherworksheets.com/spanish-reading.html>)
 - Libros descargables
(<https://www.readinga-z.com/worldlanguages/spanish/resources/>)
 - Canciones (<https://rockalingua.com/games>)
 - Libros sugeridos por nivel (K-5 Ingles)
(<https://www.greatschools.org/gk/articles/books-for-kids-grades-k-5/>)
 - Proyectos de ciencias
(<http://www.pbs.org/parents/education/science/tips/summer-science-projects/>
)
 - Reading Logs / Reading logs (http://templatelab.com/reading-log/#Printable_Reading_Log)
 - Book report template
(<http://www.busyteacherscafe.com/printables/reading.html>)
- <https://www.mundoprimeria.com/juegos-matematicas/juegos-numeros-multiplicar-sumas-restas-3o-primaria>
<http://math.cilenia.com/es>
<https://www.matematicasonline.es/#>

<https://juegosinfantiles.bosquedefantasias.com/matematicas>